




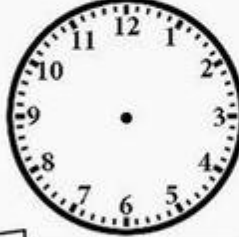








ใบงานวิชาคณิตศาสตร์ ชั้นประถมศึกษาปีที่ 2
เรื่อง เวลา

ให้นักเรียนวาดเข็มนาฬิกา เพื่อบอกเวลาที่กำหนดให้

 11:00	 8:00	 7:00	 3:00
 5:00	 2:00	 6:00	 10:00
 4:00	 12:00	 9:00	 1:00

ใบงานวิชาคณิตศาสตร์ ชั้นประถมศึกษาปีที่ 2

เรื่อง เวลา

ให้นักเรียนเติมคำตอบลงในช่องว่างที่ครูกำหนดไว้

1. ขณะนี้เวลา 20.35 น. อีก 25 นาที คือเวลา _____
2. ขณะนี้เวลา 00.55 น. อีก 10 นาที คือเวลา _____
3. ขณะนี้เวลา 1 ทุ่ม ตรง อีก 3 ชั่วโมง คือเวลา _____
4. ขณะนี้เวลาบ่ายโมง อีก 5 ชั่วโมงครึ่ง คือเวลา _____
5. ขณะนี้เวลาเที่ยงวัน อีก 40 นาที คือเวลา _____
6. ขณะนี้เวลา 11.25 น. อีกนานเท่าไรจะเที่ยง _____
7. ขณะนี้เวลาตีสอง แม่จะตื่นนอนตอนตีห้า อีกกี่ชั่วโมงแม่จะตื่นนอน _____
8. เข็มสั้นชี้เลขหก เข็มยาวชี้เลขสิบสอง ตอนนี้เป็นเวลา _____ ในตอนเย็น
9. เราได้ยินเสียงเพลงชาติเวลา _____ และ _____
10. ขณะนี้เวลา 15.35 น. อีกกี่นาทีจะ 16.00 น. _____



ใบงานวิชาคณิตศาสตร์ ชั้นประถมศึกษาปีที่ 2
เรื่อง ปฏิทิน

ให้นักเรียนเขียนวันที่ เดือน พ.ศ. และ ค.ศ. ของเดือน ธันวาคม 2563
ตามที่ปรากฏในปฏิทินจริง

เดือน	พ.ศ.	ค.ศ.
-------	------	------

อาทิตย์	จันทร์	อังคาร	พุธ	พฤหัสบดี	ศุกร์	เสาร์

