

เอกสาร ชุดที่ 4 On Hand

**ป.2**  
**SMEP**

เอกสารการจัดการเรียนการสอน  
ในสถานการณ์การแพร่ระบาดของ  
โรคติดเชื้อไวรัสโคโรนา 2019

ภาคเรียนที่ 1  
ปีการศึกษา 2564


ระหว่างวันที่ 19 - 23 กรกฎาคม 2564



ชื่อ-สกุล.....เลขที่.....

**โรงเรียนเทศบาลวารินวิชาชาติ**

สังกัดกองการศึกษา เทศบาลเมืองวารินชำราบ จังหวัดอุบลราชธานี  
กรมส่งเสริมการปกครองท้องถิ่น กระทรวงมหาดไทย



# แบบฝึกหัดฝึกความรู้




จงผันคำต่อไปนี้ให้ถูกต้องตามเสียงวรรณยุกต์


คำ	เสียง สามัญ	เสียงเอก	เสียงโท	เสียงตรี	เสียง จัตวา
ตัวอย่าง					
จำ	จา	จำ	จำ	จำ	จำ
ไม้	ไม	-	ไม้	ไม้	-
๑.ไก่					
๒.ไข่					
๓.น้ำ					
๔.ใส					
๕.ขึ้น					
๖.ย่า					
๗.เท้า					
๘.เล่า					



ชื่อ-สกุล .....

ชั้น..... เลขที่.....





# แบบฝึกหัดฝึกความรู้



จงเลือกคำตอบที่ถูกที่สุด

๑. ข้อใดถูกต้องเกี่ยวกับน้ำใส

ก. มีทรงผมทรงน้ำพุ ผูกโบสีแดง

ข. มีทรงผมทรงน้ำพุ ผูกโบสีชมพู

ค. มีทรงผมทรงหางเป็ด ผูกโบสีชมพู

๒. เมื่อไก่อ่ตื่นตกใจ จะส่งผลเสียอย่างไร

ก. ไม่ยอมกินอาหาร      ข. ไก่จะไม่ออกไข่      ค. ไก่จะไม่ฟักไข่

๓. ข้อใดคือของชอบของภูผา

ก. น้ำแข็งไส

ข. ไอศกรีม

ค. ขนมเค้ก

๔. เหตุใดภูผาจึงเก็บไข่ไม่หมด

ก. มองไม่เห็นไข่ที่เหลือ

ข. ไข่เก็บวันพรุ่งนี้

ค. เหลือให้แม่ไก่ฟัก

๕. “เมื่อไปโบกใบบัวกินน้ำแข็งกตแล้วพากันสำงวง โบกหู แกว่งหาง” ลักษณะท่าทางดังกล่าวคืออะไร

ก. โกรธ


ข. ดีใจ

ค. ตกใจ



ชื่อ-สกุล .....

ชั้น..... เลขที่.....





# แบบฝึกหัดฝึกความรู้



จงเขียนคำที่มีตัวสะกดด้วยมาตราแม่กง แม่กม แม่กน จากข้อความที่กำหนดให้

๑.เช้าวันนี้ ลุงกำนันเชิญเจ้าของช่างทั้งหมดมาประชุมกันที่ลานวัด

มาตราแม่กง \_\_\_\_\_

มาตราแม่กม \_\_\_\_\_

มาตราแม่กน \_\_\_\_\_

๒.ปางช้างหลวงนั้นอยู่ไม่ไกล นั่งรถไปสองถึงสามชั่วโมง

มาตราแม่กง \_\_\_\_\_

มาตราแม่กม \_\_\_\_\_

มาตราแม่กน \_\_\_\_\_

๓.วันมะรืนนี้ไปพร้อมกับขบวนของพ่อ เดินลัดป่าไป

มาตราแม่กง \_\_\_\_\_


มาตราแม่กม \_\_\_\_\_

มาตราแม่กน \_\_\_\_\_



ชื่อ-สกุล .....

ชั้น..... เลขที่.....





# แบบฝึกหัดฝึกความรู้



จงเลือกคำตอบที่ถูกต้องที่สุด

๑. ลุงกำนันเชิญเจ้าของช่างประชุมกันที่ใด

ก. ลานวัด

ข. หน้าตลาด

ค. หน้าโรงเรียน

๒. ลุงกำนันต้องการจ้างช่างไปทำอะไร

ก. มาลากต้นไม้ที่ล้ม

ข. มาช่วยทำให้ต้นไม้ล้ม

ค. มาช่วยขนต้นไม้มาทำฟืน

๓. “ปางช้างหลวง” หมายถึงอะไร

ก. ที่พักกลางป่าชั่วคราว

ข. สถานที่ฝึกและเลี้ยงช้าง

ค. โรงเรียนฝึกช้างและลูกช้าง

๔. “วันมะรืนนี้” หมายถึงข้อใด

ก. วันรุ่งขึ้น

ข. วันถัดจากวันพรุ่งนี้ไปวันหนึ่ง

ค. วันถัดจากวันพรุ่งนี้ไปสองวัน

๕. ข้อใดไม่ใช่พฤติกรรมของลูกช้างเมื่อลงเล่นบ่อทราย

ก. โอบ้วนอนตะแคงพลิกตัวไปมา


ข. โอบอกใช้ท้องไถแล้วชาติบขึ้นลง

ค. สายหัว แล้ววิ่งหนี



ชื่อ-สกุล .....

ชั้น..... เลขที่.....



1.  $30 + 40 + 80 = \square$

วิธีที่ 1  $30 + 40 = 70$        $(\overset{\text{↓}}{30} + \overset{\text{↓}}{40} + 80)$

$70 + 80 = 150$

วิธีที่ 2  $40 + 80 = 120$        $(30 + \overset{\text{↓}}{40} + \overset{\text{↓}}{80})$

$120 + 30 = 150$

วิธีที่ 3  $30 + 80 = 110$        $\overset{\text{↓}}{30} + \overset{\text{↓}}{40} + \overset{\text{↓}}{80}$

$110 + 40 = 150$

ดังนั้น  $30 + 40 + 80 = 150$

ตอบ = ๑๕๐

2.  $47 + 53 + 80 = \square$

วิธีที่ 1  $47 + \underline{\hspace{1cm}} = \underline{\hspace{1cm}}$

$\underline{\hspace{1cm}} + 80 = \underline{\hspace{1cm}}$

วิธีที่ 2  $\underline{\hspace{1cm}} + 80 = \underline{\hspace{1cm}}$

$\underline{\hspace{1cm}} 47 = \underline{\hspace{1cm}}$

วิธีที่ 3  $47 + 80 = \underline{\hspace{1cm}}$


$\underline{\hspace{1cm}} + \underline{\hspace{1cm}} = \underline{\hspace{1cm}}$

ดังนั้น  $47 + 53 + 80 = \underline{\hspace{1cm}}$

ตอบ

3.  $55 + 89 + 45 = \square$

4.  $70 + 99 + 30 = \square$



# ใบงานคณิตศาสตร์

หน่วยที่ 2

2.7

เรื่อง การหาผลบวกของจำนวนสามจำนวน

หาผลบวก

ตัวอย่าง  $375 + 34 + 225 = \square$

วิธีทำ

	หลักร้อย	หลักสิบ	หลักหน่วย	
	3	7	5	
		3	4	+
	2	2	5	
	<u>6</u>	<u>3</u>	<u>4</u>	

ตอบ ๖๓๔

1.  $715 + 49 + 123 = \square$

วิธีทำ

	7	1	5	
		4	9	+
	1	2	3	
	<u>          </u>	<u>          </u>	<u>          </u>	
	<u>          </u>	<u>          </u>	<u>          </u>	

ตอบ.....

2.  $255 + 126 + 364 = \square$

วิธีทำ

	2	5	5	
	1	2	6	+
	3	6	4	
	<u>          </u>	<u>          </u>	<u>          </u>	
	<u>          </u>	<u>          </u>	<u>          </u>	

ตอบ.....

3.  $408 + 92 + 50 = \square$

วิธีทำ

	4	0	8	
		9	2	+
		5	0	
	<u>          </u>	<u>          </u>	<u>          </u>	
	<u>          </u>	<u>          </u>	<u>          </u>	

ตอบ.....

4.  $385 + 409 + 23 = \square$

วิธีทำ

	3	8	5	
	4	0	9	+
		2	3	
	<u>          </u>	<u>          </u>	<u>          </u>	
	<u>          </u>	<u>          </u>	<u>          </u>	

ตอบ.....

ชื่อ \_\_\_\_\_ ชั้น \_\_\_\_\_ เลขที่ \_\_\_\_\_

Name (ชื่อ-สกุล) ..... Grade (ชั้น) ..... No. (เลขที่) .....

# WORKSHEET

Directions: Fill in the blanks with the words given below

คำชี้แจง: จงเติมคำลงในช่องว่างให้สมบูรณ์และสอดคล้องกับรูปภาพ

**Basketball** Volleyball Rugby  
Tennis Soccer Baseball

1.



B a s k e t b a l l

4.



S \_ \_ \_ \_ c \_ \_ \_ \_

2.



T \_ \_ \_ \_ n \_ \_ \_ \_ s

5.



V \_ \_ \_ \_ l \_ \_ \_ \_ y \_ \_ \_ \_ ll

3.



R \_ \_ \_ \_ b \_ \_ \_

6.



B \_ \_ \_ \_ e b \_ \_ \_ \_ l

Name (ชื่อ-สกุล) ..... Grade (ชั้น) ..... No. (เลขที่) .....

## Using “play + sports” (การใช้ “play + sports”)

“play” is used when the sport is a game which is normally played with a ball and an opponent or rival team. (โดยทั่วไป play จะใช้กับกีฬาที่เล่นเป็นทีม มีกฎ กติกา เกม และกีฬาที่ใช้ลูกบอล)

### Vocabulary (คำศัพท์)

volleyball, basketball, baseball, tennis,  
badminton, golf, soccer, rugby, hockey

A: What sport do you play?

(คุณเล่นกีฬาชนิดใด?)

B: I play \_\_\_\_\_.

(ฉันเล่น \_\_\_\_\_.)

**Directions:** Look at the pictures and answer the questions

คำชี้แจง: ดูรูปภาพแล้วตอบคำถาม

1.



A: What sport do you play?

B: I play \_\_\_\_\_.

2.



A: What sport do you play?

B: I play \_\_\_\_\_.