

ป.2

**เอกสารการจัดการเรียนการสอน
ในสถานการณ์การแพร่ระบาดของ
โรคติดเชื้อไวรัสโคโรนา 2019**

**ภาคเรียนที่ 1
ปีการศึกษา 2564**

ระหว่างวันที่ 12 - 16 กรกฎาคม 2564



ชื่อ-สกุล.....เลขที่.....

โรงเรียนเทศบาลวารินวิชาชาติ

สังกัดกองการศึกษา เทศบาลเมืองวารินชำราบ จังหวัดอุบลราชธานี
กรมส่งเสริมการปกครองท้องถิ่น กระทรวงมหาดไทย

ใบงานภาษาไทย (สัปดาห์ที่ 4 /12-16 ก.ค.)
ชั้นประถมศึกษาปีที่ 2 โรงเรียนเทศบาลวารินวิชาชาติ

ชื่อ.....นามสกุล..... ชั้น ป. 2/..... เลขที่.....

ภาษาพาที

ป.2

บทที่ 2 ใจหาย

สรุปใจสำคัญของเรื่อง

ลุงกำนันเชิญเจ้าของช้างทั้งหมดมาประชุมกันที่ลานวัด ภูผา น้ำใส และเด็ก ๆ ตามพ่อไปด้วย ลุงกำนันบอกว่าฝนตกหนัก ทำให้ดินบนภูเขาถล่ม ต้นไม้ล้มจำนวนมาก ทางกรมเกรงว่าถ้าฝนตกหนักซ้ำจะเกิดน้ำป่าไหลบ่า ต้นไม้จะไหลตามน้ำลงมาทำให้หมู่บ้านเสียหาย จึงต้องการว่าจ้างช่างไปลากต้นไม้ที่ล้มมารวมไว้ในที่ปลอดภัย ใครจะทำงานนี้ให้มาลงชื่อไว้

ความใฝ่ฝันของของภูผาและความมีงพ่อของน้ำใสไปลงชื่อเพื่อไป ความใฝ่ฝันบอกว่าภูผาต้องน้ำโบโบก โบบัวไปปางช้างหลวง ซึ่งเป็นโรงเรียนฝึกลูกช้างของจังหวัด ภูผารู้สึกใจหายที่ต้องจากช้างเพื่อรัก พ่อบอกว่า ปางช้างหลวงอยู่ไม่ไกล ถ้าภูผาคิดถึงก็ไปเยี่ยมได้

ความใฝ่ฝันจะไปส่งโบโบก โบบัว ที่โรงเรียนฝึกลูกช้างก่อน แล้วจึงจะไปทำงาน ภูผาและน้ำใสขอไปส่งด้วย ซึ่งพ่อก็อนุญาต

ก่อนที่โบโบก โบบัว จะไปโรงเรียนฝึกช้าง ภูผาและเพื่อน ๆ พาโบโบก โบบัวไปเล่นฟุตบอลที่ริมตลิ่งกันอย่างสนุกสนาน




๑) เขียนวงกลมล้อมรอบข้อที่เป็นคำตอบจากเรื่อง
ใจหาย

๑) ลุงกำนันเชิญเจ้าของข้างมาประชุมที่ไหน



ก



ข



ค

๒) ทำไมลุงกำนันจึงเชิญเจ้าของข้างมาประชุม



ก



ข



ค

๓) ลุงกำนันต้องการให้เจ้าของข้างทำอะไร



ก



ข



ค

๓) เลือกคำตอบจากคำที่กำหนดให้เติมลงในช่องว่าง
ให้ถูกต้อง



เล่นฟุตบอล

เพื่อนเด็ก

ริมตลิ่ง

สนุกสนาน

เพื่อนช่าง

ใจหาย

ความสุข

๑) ในภาพมีใครบ้าง

ตอบ ในภาพมี _____ และ _____

๒) ทั้งช่างและคนกำลังทำอะไร ที่ไหน

ตอบ ทั้งช่างและคนกำลัง _____

ที่ _____

๓) ทั้งหมดเล่นฟุตบอลกันอย่างไร

ตอบ ทั้งหมดเล่นฟุตบอลกันอย่าง _____

และมี _____

๔) “เราจะได้เล่นกันอย่างนี้อีกไหม” ตามเนื้อเรื่อง

แสดงว่าญาติและเพื่อนๆ รู้สึกอย่างไร

ตอบ แสดงว่าญาติและเพื่อนๆ

รู้สึก _____

๕) เขียนคำให้ตรงกับคำอ่าน

บ่อ - ชาย _____

อะ - ที - บาย _____

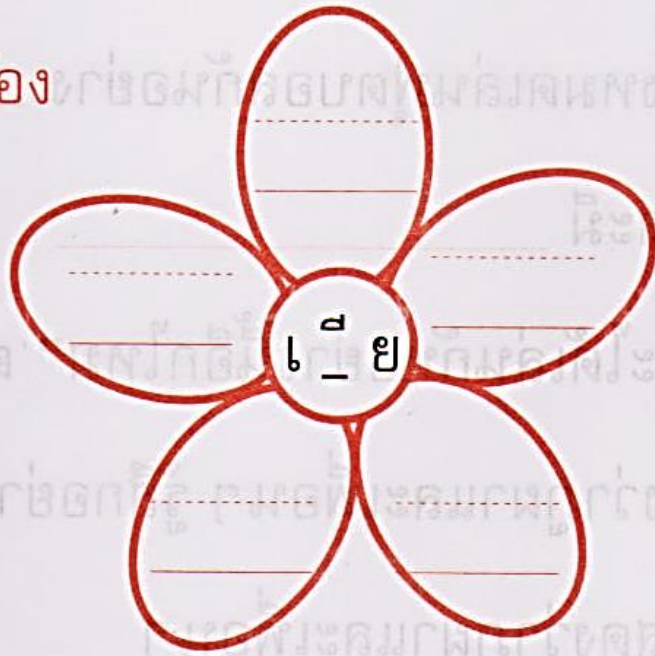
ดิน - ตะ - หล่ม _____

พะ - ยัก - หน่า _____

ริม - ตะ - หลิ่ง _____

๕) เติมคำที่ประสมด้วยสระเอีย (เีย) ในกลีบดอกไม้

ให้ถูกต้อง



๖) เลือกคำที่เหมาะสมเติมในช่องว่างและฝึกอ่าน

๑) คนอ่อนเพลียเพราะ _____ เหนือ

สุนัข _____ แผลเพราะบาดเจ็บ (เลีย, เสียว)

๒) ผึ้งไถ่ชอบคุ้ย _____

รถเข้า _____ ออกเล่นปรี๊ด (เกียร์, เชี่ย)

๓) งัว _____ เพิ่งตื่นหรือ

เสียงร้องฮือหนุ _____ เอง (เป็ย, เจ็ย)

๔) หน้าบอกลมให้สวมเสื้อตั้ง _____ และสวม

_____ เดินเสียงดัง (เก็ยะ, เป็ยะ)

บทที่ 2 ใจหาย - โบงาน

แบบฝึกหัด

คำสั่ง ให้นักเรียนเขียนคำตอบลงในช่องว่างให้ถูกต้องตามเนื้อหาในบทเรียน

- 1) ลูกก้านั้นเชิญเจ้าของข้างมาประชุมที่ไหน

- 2) เหตุใดลูกก้านั้นจึงเชิญเจ้าของข้างมาประชุม

- 3) ลูกก้านั้นต้องการให้เจ้าของข้างทำอะไร

- 4) “ปางข้าง” คืออะไร

- 5) เมื่อภูผาทราบว่าจะต้องอยู่ห่างกับลูกข้าง ภูผารู้สึกอย่างไร

แบบฝึกหัด

2.3 การหาผลบวกโดยการตั้งบวกไม่มีการทด

1 หาผลบวก



$243 + 124 = \square$

หลักร้อย	หลักสิบ	หลักหน่วย
2	4	3
1	2	4 ⁺
3	6	7

ตอบ๓๖๗.....

1) $102 + 211 = \square$

หลักร้อย	หลักสิบ	หลักหน่วย
1	0	2
2	1	1 ⁺

ตอบ

2) $468 + 320 = \square$

หลักร้อย	หลักสิบ	หลักหน่วย
4	6	8
3	2	0 ⁺

ตอบ

3) $743 + 124 = \square$

หลักร้อย	หลักสิบ	หลักหน่วย
7	4	3
1	2	4 ⁺

ตอบ

4) $845 + 143 = \square$

หลักร้อย	หลักสิบ	หลักหน่วย
8	4	5
1	4	3 ⁺

ตอบ

2 ทหาผลบวก



$413 + 106 = \square$

วิธีทำ

$$\begin{array}{r} 413 \\ + 106 \\ \hline 519 \end{array}$$

ตอบ ๕๑๙

1) $336 + 241 = \square$

วิธีทำ

$$\begin{array}{r} 336 \\ + 241 \\ \hline \end{array}$$

ตอบ

2) $238 + 721 = \square$

วิธีทำ

$$\begin{array}{r} 238 \\ + 721 \\ \hline \end{array}$$

ตอบ

3) $642 + 246 = \square$

วิธีทำ

$$\begin{array}{r} 642 \\ + 246 \\ \hline \end{array}$$

ตอบ

4) $522 + 423 = \square$

วิธีทำ

$$\begin{array}{r} 522 \\ + 423 \\ \hline \end{array}$$

ตอบ

5) $294 + 705 = \square$

วิธีทำ

$$\begin{array}{r} 294 \\ + 705 \\ \hline \end{array}$$

ตอบ


6) $567 + 432 = \square$

วิธีทำ

$$\begin{array}{r} 567 \\ + 432 \\ \hline \end{array}$$

ตอบ

3 ทาผลบวก

 $854 + 132 = \square$

วิธีทำ

8	5	4	+
1	3	2	
9	8	6	

ตอบ ๙๘๖

1) $319 + 240 = \square$

วิธีทำ

			+

ตอบ

2) $513 + 274 = \square$

วิธีทำ

			+

ตอบ

3) $702 + 156 = \square$

วิธีทำ

			+

ตอบ

4) $427 + 121 = \square$

วิธีทำ

			+

ตอบ

5) $251 + 247 = \square$

วิธีทำ

			+

ตอบ

2.4 การหาผลบวกโดยการตั้งบวกมีการทด (1)

1 หาผลบวก



$$549 + 234 = \square$$

หลักร้อย	หลักสิบ	หลักหน่วย
5	4	9
2	3	4 ⁺

7	8	3
=====		

ตอบ ๗๘๓

$$1) 436 + 247 = \square$$

หลักร้อย	หลักสิบ	หลักหน่วย
4	3	6
2	4	7 ⁺

=====		

ตอบ

$$2) 487 + 372 = \square$$

หลักร้อย	หลักสิบ	หลักหน่วย
4	8	7
3	7	2 ⁺

=====		

ตอบ

$$3) 406 + 478 = \square$$

หลักร้อย	หลักสิบ	หลักหน่วย
4	0	6
4	7	8 ⁺

=====		

ตอบ

$$4) 735 + 235 = \square$$

หลักร้อย	หลักสิบ	หลักหน่วย
7	3	5
2	3	5 ⁺

=====		

ตอบ

2 หาผลบวก



$561 + 48 = \square$

วิธีทำ

$$\begin{array}{r} 1 \\ 5 \quad 6 \quad 1 \\ + \quad 4 \quad 8 \\ \hline 6 \quad 0 \quad 9 \end{array}$$

ตอบ๖๐๙.....

$1) 652 + 283 = \square$

วิธีทำ

$$\begin{array}{r} 6 \quad 5 \quad 2 \\ + \quad 2 \quad 8 \quad 3 \\ \hline \end{array}$$

ตอบ

$2) 88 + 709 = \square$

วิธีทำ

$$\begin{array}{r} 8 \quad 8 \\ + \quad 7 \quad 0 \quad 9 \\ \hline \end{array}$$

ตอบ

$3) 534 + 326 = \square$

วิธีทำ

$$\begin{array}{r} 5 \quad 3 \quad 4 \\ + \quad 3 \quad 2 \quad 6 \\ \hline \end{array}$$

ตอบ

$4) 711 + 179 = \square$

วิธีทำ

$$\begin{array}{r} 7 \quad 1 \quad 1 \\ + \quad 1 \quad 7 \quad 9 \\ \hline \end{array}$$

ตอบ

$5) 290 + 696 = \square$

วิธีทำ

$$\begin{array}{r} 2 \quad 9 \quad 0 \\ + \quad 6 \quad 9 \quad 6 \\ \hline \end{array}$$

ตอบ

$6) 700 + 300 = \square$

วิธีทำ

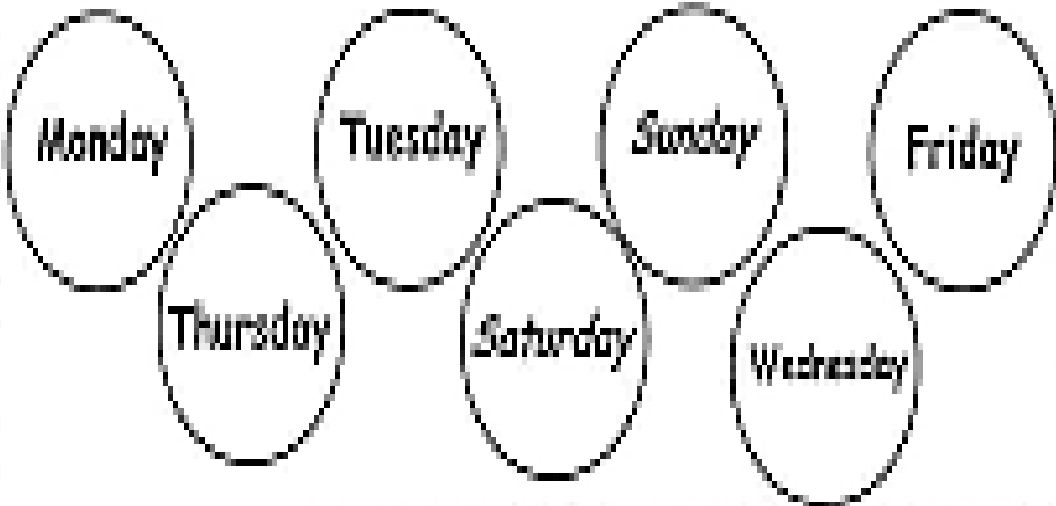
$$\begin{array}{r} 7 \quad 0 \quad 0 \\ + \quad 3 \quad 0 \quad 0 \\ \hline \end{array}$$

ตอบ

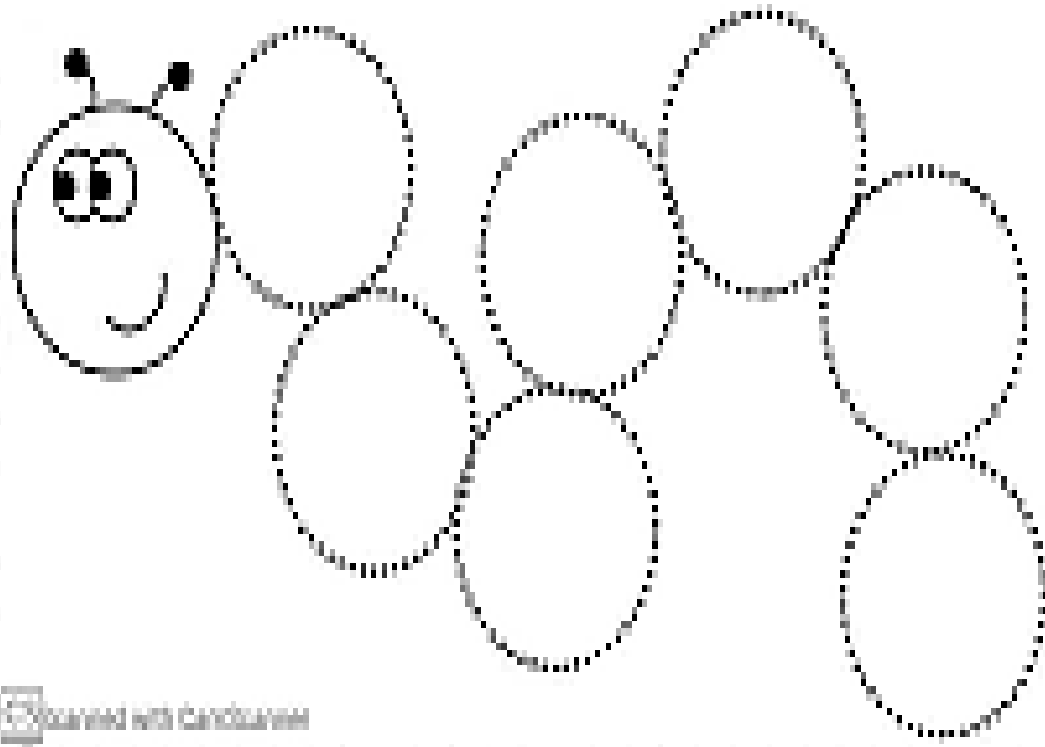
Name.....Class.....No.....

ให้นักเรียนเลือกวันที่กำหนดให้ด้านบนเติมลงในวงกลมด้านล่างโดยเรียงตามวันที่ถกตั้งแล้วระบายสีตามวัน

DAYS OF THE WEEK



Complete all days of the week

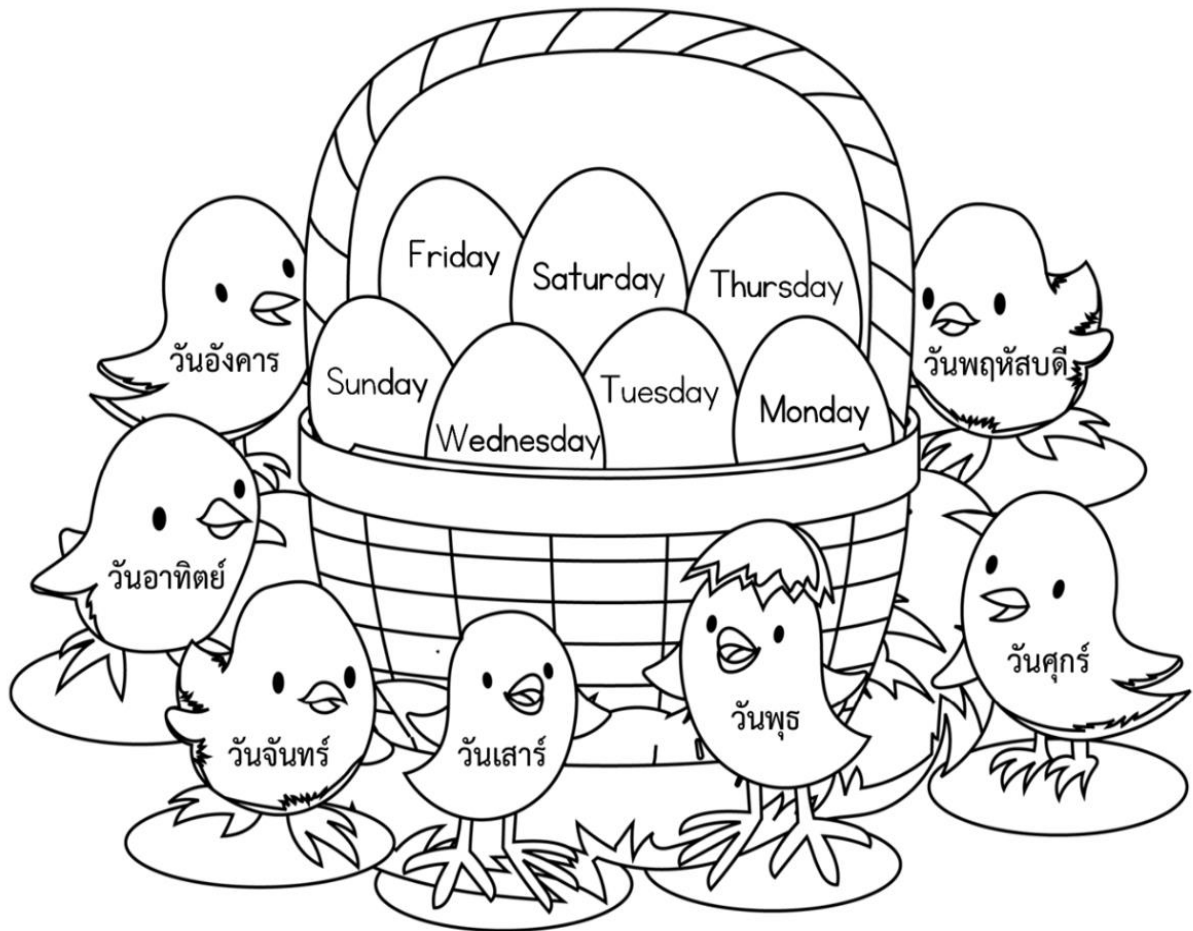


Name Class No.

Exercise 4: ระบายสีไข่และไขเป็นสีเดียวกันในวันเดียวกัน และเขียนวัน



โดยเรียงจากวันอาทิตย์ถึงวันเสาร์



1 _____

2 _____

3 _____

4 _____

5 _____

6 _____

7 _____


Name Class No.

Exercise 10: ตอบคำถามให้เป็นประโยคให้ถูกต้อง



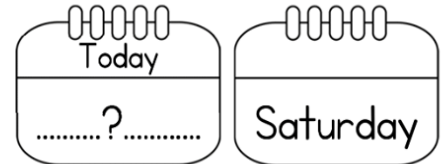
9 What day is today?

It's



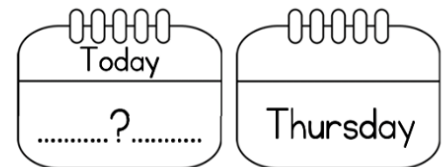
10 What day is today?

It's




11 What day is today?

.....

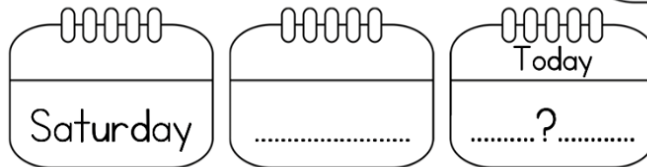


12 What day is today?

.....



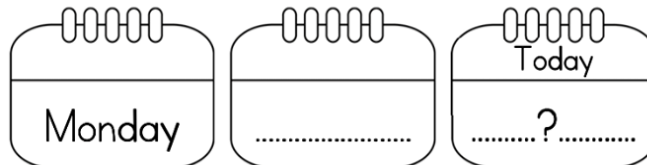
13



What day is today?

It's

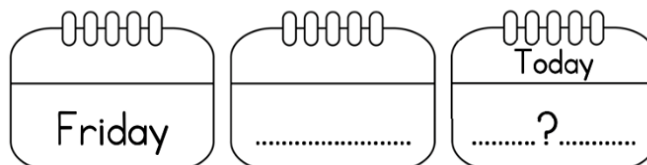
14



What day is today?

It's

15



What day is today?

It's

Name Class No.

Exercise 2: โยงเส้นจับคู่ให้ถูกต้อง



1



2



3



4



5



6



7



Name.....Class.....No.....

Days of the week : Yesterday and tomorrow

ให้นักเรียนนำคำศัพท์ด้านล่างมาเติมในช่องว่างให้ถูกต้องแล้วระบายสีดอกไม้ด้านล่างตามสีที่กำหนดให้ ให้สวยงาม

Yesterday(เมื่อวาน)	Today(วันนี้)	Tomorrow(พรุ่งนี้)
	Wednesday	
	Monday	
	Thursday	
	Tuesday	
	Sunday	
	Saturday	
	Friday	
	Monday	Friday
	Tuesday	Saturday
	Wednesday	Sunday
	Thursday	

